

HRAVÝ

# ZEMĚPIS

REGIONÁLNÍ ZEMĚPIS KONTINENTŮ

Pracovní sešit pro 7. ročník ZŠ a víceletá gymnázia

**V souladu s RVP**



Vydavatelství  
Taktik

## **Hravý zeměpis 7**

### **Regionální zeměpis kontinentů**

Pracovní sešit pro 7. ročník ZŠ a víceletá gymnázia

Autoři: Mgr. Petr Šimon  
Mgr. Jana Váchová  
PhDr. Lucie Müllerová  
Bc. Pavel Tauš  
Mgr. Iveta Martinčová  
Mgr. Jana Géringová

Lektoři: Mgr. Eva Prinkeová  
Mgr. Kateřina Rončková  
Mgr. Jitka Fárová

Recenzenti: RNDr. Vladimír Herber, CSc  
PaedDr. Jaroslava Olšanská

Jazyková korektura: Mgr. Věra Štefánková  
Mgr. Milena Jakoubková  
Bc. Andrea Pasternáková

Grafická úprava a sazba: Mgr. art. Stanislava Belanová  
Návrh obálky: Mgr. Martin Pavlík, Sára Doležalová

Produktový manažer: Ing. Alena Fusková  
Projektový manažer: Ing. Jaroslav Brdjar

ISBN: 978-80-7563-071-1  
4. vydání, 2017

Copyright: © Vydavatelství Taktik International, s.r.o., Praha 2013 (1. vydání 2013)  
Vyrobil a vydal: Taktik International, s.r.o., Argentinská 38, 170 00 Praha 7

**Schválilo MŠMT čj. MSMT-5623/2017 dne 2. června 2017 k zařazení  
do seznamu učebnic pro základní vzdělávání jako součást ucelené řady učebnic  
pro vzdělávací obor Zeměpis s dobou platnosti šest let.**

Všechna práva vyhrazena. Šíření či reprodukce obsahu nebo jeho částí jakýmkoliv způsobem jsou bez předchozího písemného souhlasu vydavatele zakázány.

# HRAVÝ ZEMĚPIS

## 7

\_\_\_\_\_

JMÉNO

\_\_\_\_\_

ŠKOLA

\_\_\_\_\_

TŘÍDA

\_\_\_\_\_

ŠKOLNÍ ROK

	REGIONÁLNÍ GEOGRAFIE SVĚTA.....	2
	I. AFRICKÝ KONTINENT .....	4
	II. REGIONY AFRIKY.....	12
	I. AMERICKÝ KONTINENT .....	18
	II. REGIONY AMERIKY .....	27
	I. ASIJSKÝ SVĚTADÍL.....	34
	II. REGIONY ASIE.....	41
	AUSTRÁLIE A OCEÁNIE .....	50
	ARKTIDA, ANTARKTIDA .....	55





## I. REGIONÁLNÍ GEOGRAFIE SVĚTA

## Oceány a kontinenty

---



---



---



---



---



---



---



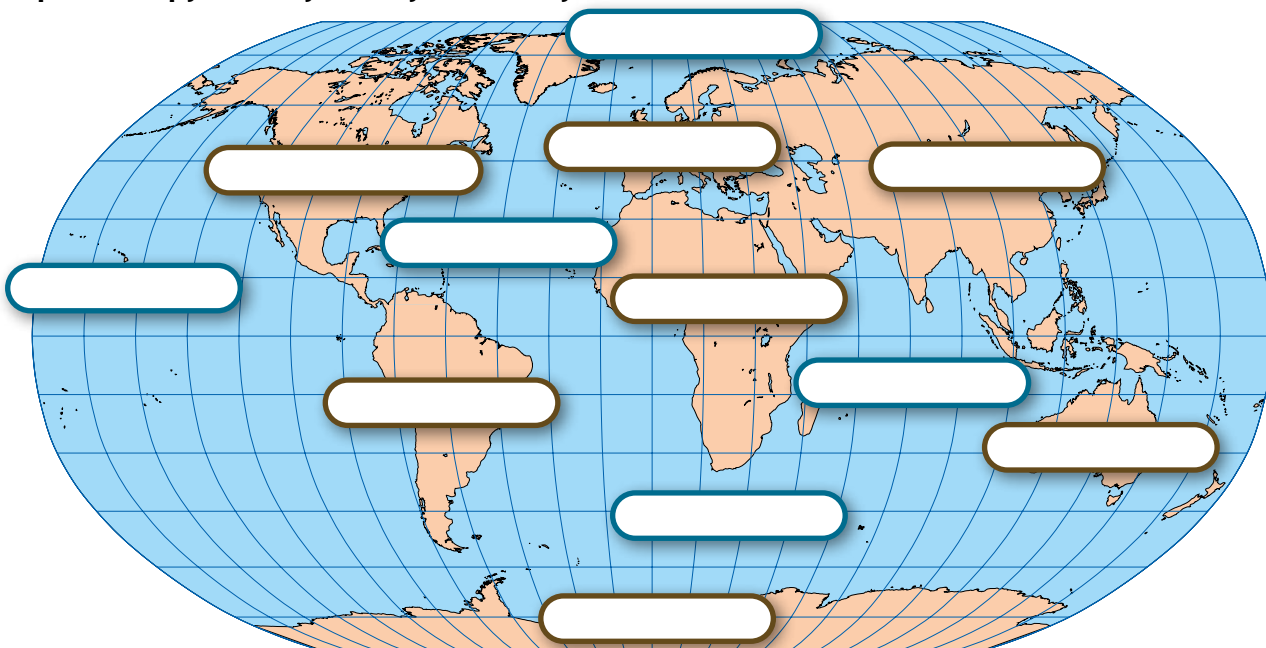
---



---

1.

Zapiš do mapy všechny oceány a světadíly:



2.

Vypiš všechny kontinenty a světadíly:

Kontinenty:

Světadíly:

3.

**Doplň text. Použij slova z nabídky (okrajová, vnitřní, Země, světový oceán, moře, oceány):**

Souvislý vodní obal Země označujeme jako \_\_\_\_\_. Zaujímá 2/3 rozlohy \_\_\_\_\_. Světový oceán tvoří \_\_\_\_\_ a \_\_\_\_\_. Moře dělíme na \_\_\_\_\_, která jsou volně přístupná z oceánu, a \_\_\_\_\_, která jsou spojena s oceánem průlivy nebo průplavy.

## I. REGIONÁLNÍ GEOGRAFIE SVĚTA

## Státy světa

1.

Podle nápovědy doplň pojmy na začátku vět:

 jsou ty, které vytyčili lidé. tvoří vodní toky a hřebeny hor. je vymezeno území každého státu. je základní politickou jednotkou, je vymezen mocí, hranicemi a obyvatelstvem.

Nabídka slov: hranice, umělá hranice, přírodní hranice, stát

2.

Státy se od sebe liší i státním zřízením. Poznej podle fotografií, zda se jedná o diktátorský režim, monarchii nebo republiku v čele s prezidentem. Napiš jména osob, formu vlády a stát, ve kterém daná osoba vládne:



Jméno osoby:

Forma vlády:

Území:

3.

Vyber správné tvrzení:

## I) SUVERÉNNÍ STÁT:

- A** je samostatným státem a mezinárodně uznanou jednotkou, která má obyvatelstvo, státní moc i hranice.
- B** není samostatným státem, ale je mezinárodně uznanou jednotkou, která má hranice, obyvatelstvo i státní moc.
- C** je samostatným státem a mezinárodně uznanou jednotkou, která má obyvatelstvo i státní moc, ale nemá hranice.

## II) ZÁVISLÉ ÚZEMÍ:

- A** je samostatným státem, ale polovina území patří suverénnímu státu, který zde uplatňuje svou moc.
- B** není samostatným státem, patří suverénnímu státu, který na jeho území uplatňuje svou moc.
- C** je samostatným státem, ale pohraničí patří suverénnímu státu, který na tomto území uplatňuje svou moc.

4.

Zaškrtni závislá území. Použij v atlase politickou mapu světa:

 Nová Guinea Britské Panenské ostrovy Madagaskar Filipínské ostrovy Cookovy ostrovy Francouzská Guyana

## I. AFRICKÝ KONTINENT

## Přírodní poměry – Přírodní krajiny

---

---

---

---

---

---

---

---

---

---

---

---

---

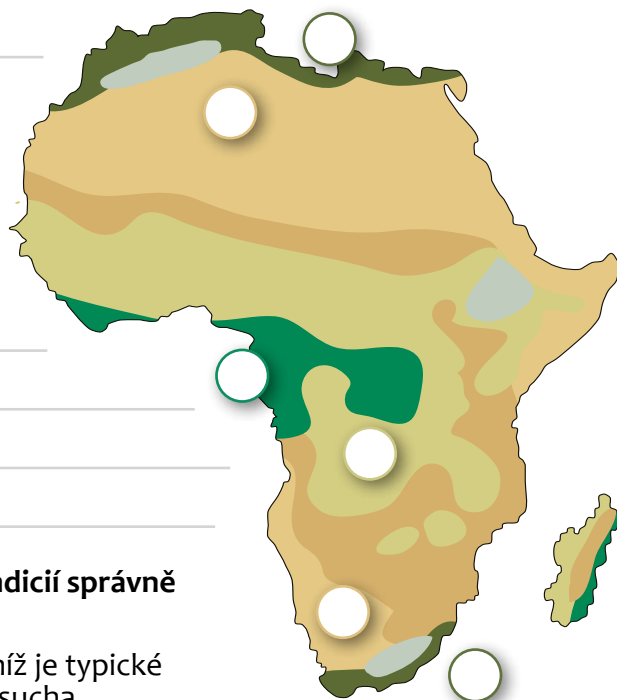
---

---

---

---

---



1.

Doplň do mapy vegetační pásma Afriky. Podle indicií správně urči typ přírodní krajiny a přiřaď k ní obrázek:

1.  je travnatá krajina, pro níž je typické střídání období dešťů a sucha.
2.  leží v okolí rovníku. Vyznačuje se velkým množstvím nejpestřejších rostlin a živočichů na Zemi.
3.  se rozprostírají v oblasti obratníků. Žijí v nich převážně noční živočichové a rostou zde rostliny, které dobře hospodaří s vodou.
4.  se nachází na severu a jihu Afriky. Jsou užívané k zemědělským účelům, především na pěstování oliv, citrusů a vinné.



2.

Doplň:

Společenství rostlin a živočichů určité rozsáhlé geografické oblasti spolu s prostředím a klimatem se nazývá \_\_\_\_\_.



3. Zakroužkuj správnou odpověď. Oáza je:

- A. místo v poušti, kde vyvěrá podzemní voda      B. místo, kde se nevyskytuje voda  
C. místo v deštném pralese, kde nikdy neprší

Pospojuj zvířata a rostliny s přírodní krajinou, ve které žijí:

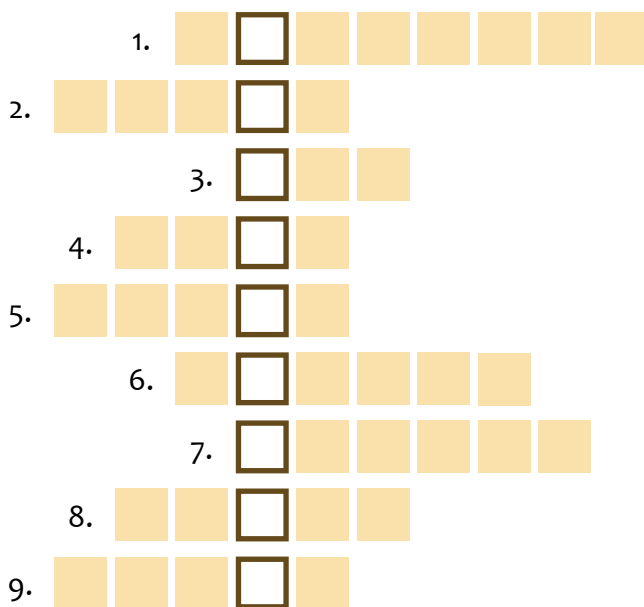
1. Pouště, polopouště

2. Deštný les

3. Savana



4. Poznej africká zvířata a vylušti doplňovačku:



\* Písmeno CH napiš v této doplňovačce do dvou okének.

Tajenka:



Proč patří toto zvíře mezi kriticky ohrožené?

5. Rozhodni o pravdivosti tvrzení:

- A. Velbloud dromedár má jeden hrb.  
B. Typickým obyvatelům písčinych pouští jsou gorily.  
C. Gepard štlhý je nejrychlejší suchozemské zvíře. Dokáže běžet rychlostí přes 100 km/h.  
D. Stromy v pralese jsou přizpůsobeny střídání období sucha a dešťů.

ANO NE

ANO NE

ANO NE

ANO NE

6. Napiš podle obrázku název rostliny pocházející ze severní Afriky:

název rostliny:





II. REGIONY AMERIKY

Střední Amerika – pevninské státy

---

---

---

---

---

---

1. Dopiš do mapy názvy států:



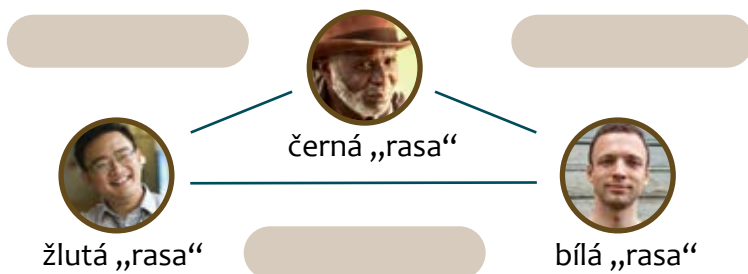
2. Poznáš podle obrázků největší a nejvýznamnější stát ve Střední Americe? Obrázky pojmenuj:



Hledaným státem je \_\_\_\_\_ s hlavním městem \_\_\_\_\_, ve kterém žije více než \_\_\_\_\_ obyvatel.

3. Střední Amerika je oblastí, ve které docházelo k míšení ras.

Pomocí šipek pojmenuj míšence jednotlivých ras.  
(Nápověda: mestic, mulat, zambo)



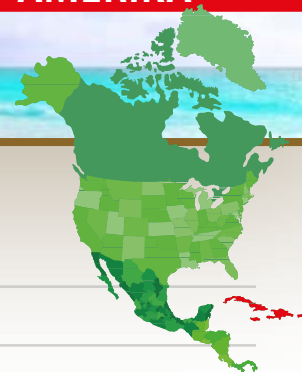
4. Urči 4 státy, u kterých se název hlavního města shoduje s názvem státu, a napiš je ke správným vlajkám:





## II. REGIONY AMERIKY

## Střední Amerika – Karibské státy




---



---



---



---



---



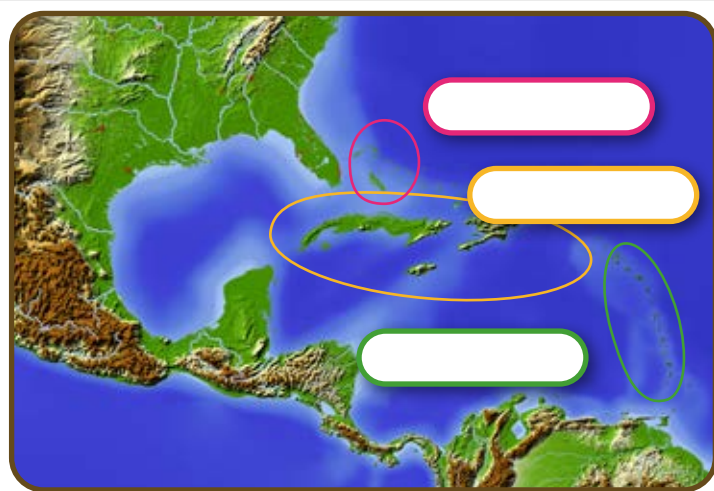
---

1.

Vyznač na mapě souostroví: Malé Antily, Velké Antily, Bahamy:

2.

Vyjmenuj názvy ostrovů, které jsou součástí Velkých Antil:



3.


Kuba je známá výrobou a vývozem některých produktů, napiš, které to jsou:





4.

Přiřaď k obrázkům správná jména a napiš název ostrova (státu), ze kterého všichni pocházejí:






Stát:



5.

Zakreslí do mapy tzv. bermudský trojúhelník: Nápověda: je to oblast ležící mezi jižním cípem Floridy, Portorikem a Bermudami na pomezí Mexického zálivu.

## I. ASIJSKÝ SVĚTADÍL

## Přírodní poměry – Přírodní krajiny



1. Do mapky dopiš názvy hlavních biomů (přírodních krajín) Asie. Použij pojmy z nabídky:


- A velehorské oblasti    C lesy mírného pásu    D pouště a polopouště    E tajga  
 F stepi    G tropické lesy    H tundra    B savany / monzunové oblasti

2. Z Asie pochází mnoho kulturních rostlin, které se využívají jako koření. Dopln k obrázkům jejich správné názvy:



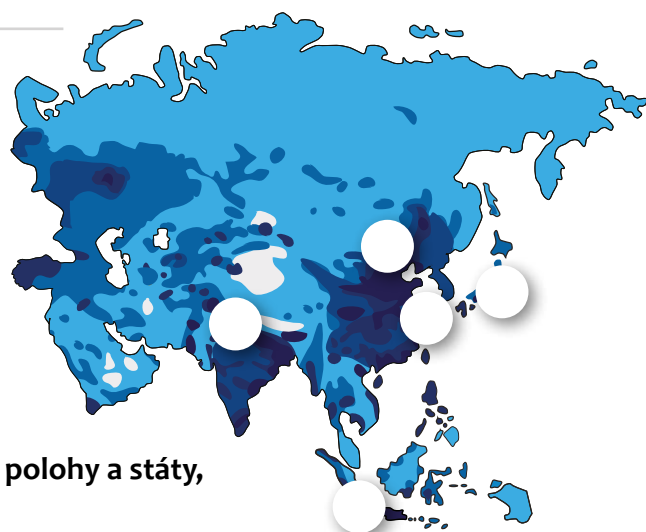
3. Poznej dle popisu a obrázku zvířata Asie. Napiš jejich celé názvy:

- A. Silně ohrožené zvíře pocházející z bambusových lesů v Číně  
 B. Největší jedovatý had světa, při ohrožení se vztyčí a roztahuje krční kůži  
 C. Největší živočich Asie, žije v jižní a jihovýchodní Asii. Má příbuzné v Africe



## I. ASIJSKÝ SVĚTADÍL

## Obyvatelstvo a hospodářství Asie



1.

Doplň do tabulky asijská města nebo zeměpisné polohy a státy, ve kterých město leží. Čísla měst zapiš do mapy:

	město	počet obyvatel	zeměpisná poloha	stát
1.		35 000 000		
2.	Jakarta	28 000 000		
3.	Šanghaj	23 000 000		
4.		21 000 000	39° s. š. 116° v. d.	
5.		14 000 000	28° s. š. 77° v. d.	

2.

Intenzita modré barvy charakterizuje hustotu zalidnění. Urči podle mapy, které oblasti jsou typické pro vysokou hustotu zalidnění:

nížiny

velehorské oblasti

okolí řek

vnitrozemí Arabského poloostrova

ostrovy JV Asie

Sibiř

japonské ostrovy

pobřeží

3.

Mnohé národy Asie používají vlastní typ písma. Přiřaď k ukázkám písma konkrétní oblast, ze které pocházejí: (Nápověda: Indie, Arabské země, Čína)

1. 为书之动往来坐行飞  
体须入卧起愁剑长戈  
形若喜虫食强弓硬

2. उर्वा रूकमिव बंधनान्  
मृत्योर्मुक्षीय मामृतात्  
भूभवं: स्वरो जूं सः हौं ॐ

3. الغالب و امام اهل المشارق والمغارب،  
ايطالب عليه السلام است، وقف نمود  
رضويه، على ساكنها ألف ألف صلوة



5. Rozhodni, zda dané tvrzení patří k Číně, Mongolsku nebo Japonsku. Do kolonky napiš začáteční písmena států:

- A Je nejrozvinutější průmyslový stát.
- B Na jihu státu se nachází poušť Gobi.
- C Nejvyšší sopka tohoto státu se nazývá Fudžisan (Fudži)
- D Lidé žijí kočovným způsobem života.
- E Třetí největší stát na světě.
- F Po tisíce let se zde chová bourec morušový.


6. Napiš, ze kterých států východní Asie pocházejí tyto fotografie, a obrázky pojmenuj:



1.



2.



3.





7. Co znamená věta: „Made in China“?

- A Dovezeno z Číny
- B Vyrobeno v Číně
- C Patentováno v Číně


8. Vytvoř správný text a doplň ho:

Japonsko je ostrovní stát, který se skládá asi ze tří **stovek/tisíců** ostrovů táhnoucích se podél **východního/západního** pobřeží Asie. Většinu území představují čtyři japonské ostrovy \_\_\_\_\_, \_\_\_\_\_, \_\_\_\_\_, a \_\_\_\_\_.


9. Vyber japonskou vlajku:




1.



2.



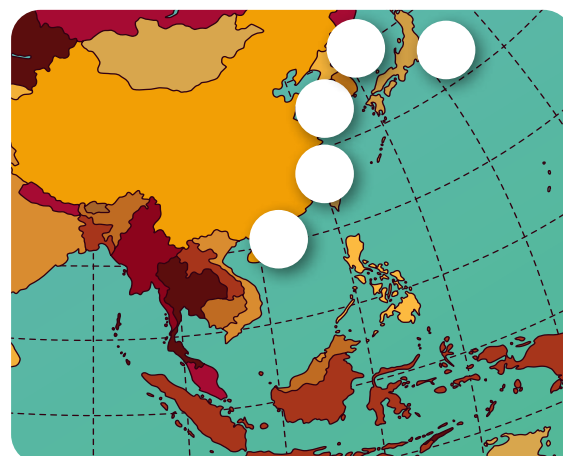
3.



4.

10. V mapě jsou zakresleny vybrané přístavy východní Asie. Přiřaď ke každému přístavu správné jméno a doplň název státu, ve kterém leží:

	Přístav:	Stát:
1.	Šanghaj	
2.	Jokohama	
3.	Čching-tao (Qingdao)	
4.	Hongkong	
5.	Pusan	



## II. REGIONY ASIE

## Jihovýchodní Asie




---



---



---



---



---



---

1.

Pojmenuj čtyři ostrovy jihovýchodní Asie. Podle názvů ostrovů vytvoř a doplň druhové jméno ke každému zvířeti, které daný ostrov obývá:




orangutan



tygr



nosorožec



kakadu žlutolící

2.

Proč se rýže pěstuje na rýžovitých polích (terasách)?

- A** Na vzniklých terasách se nezadržuje zbytečná voda a rýže dobře roste.
- B** Vzniklé terasy zadržují vodu, ve které rýže roste.
- C** Vzniklé terasy chrání rýži před větrem, takže nebývá odváta na jiná místa.


3.

Napiš, jak se jmenují stavby na obrázcích a města, ve kterých jsou vybudovány:

1.

2.

1.



2.



I. AUSTRÁLIE A OCEÁNIE

Přírodní poměry



1. Přiřaď k vyznačeným městům na mapě správná čísla a pojmenuj vyznačené ostrovy:

1. Adelaide    2. Brisbane    3. Canberra    4. Melbourne    5. Sydney    6. Perth

2. Napiš název světadílu, na který se dostaneš, pokud z Austrálie poletíš na:

- |          |                      |                 |                      |
|----------|----------------------|-----------------|----------------------|
| a) sever | <input type="text"/> | d) východ       | <input type="text"/> |
| b) jih   | <input type="text"/> | e) severovýchod | <input type="text"/> |
| c) západ | <input type="text"/> | f) severozápad  | <input type="text"/> |

3. Doplň správně tabulku, která porovnává Nový Zéland a Českou republiku:

stát	Česko	Nový Zéland
<input type="text" value="polokoule"/>	<input type="text"/>	<input type="text"/>
<input type="text" value="roční období, které začíná 20. 3. nebo 21. 3."/>	<input type="text"/>	<input type="text"/>
<input type="text" value="roční období, které začíná 20. 6. nebo 21. 6."/>	<input type="text"/>	<input type="text"/>
<input type="text" value="roční období, které začíná 22. 9. nebo 23. 9."/>	<input type="text"/>	<input type="text"/>
<input type="text" value="roční období, které začíná 21. 12. nebo 22. 12."/>	<input type="text"/>	<input type="text"/>

4. Slož správně přeházené názvy z Austrálie:

- |   |                      |  |                      |
|---|----------------------|--|----------------------|
| a) <input type="text" value="MÁTASNIE (ostrov)"/> | <input type="text"/> | c) <input type="text" value="STRAKÉLSAU PALY (pohoří)"/>       | <input type="text"/> |
| b) <input type="text" value="RAYRUM (řeka)"/>     | <input type="text"/> | d) <input type="text" value="EVKLÁ INITIKVARO ŠŤOUP (poušť)"/> | <input type="text"/> |





5. Za pomoci atlasu vylušti doplňovačku a získej tajenku:

1. velké pohoří na východě Austrálie

2. moře na severu Austrálie

3. největší ostrov na severu Austrálie

4. přístavní město na západě Austrálie

5. poušť ve středu Austrálie

6. australské velkoměsto

7. poloostrov na severu Austrálie

8. jméno královny, která je hlavou Austrálie


9. australské hlavní město

10. ostrov na jihu Austrálie

6. Austrálie je bohatým kontinentem specifických rostlin a živočichů. Z těchto druhů živočichů a rostlin vyškrtej ty, které se nevyskytují v Austrálii:


srna – vačice – anakonda – lední medvěd – zebra – lípa obecná – klokan – pes dingo – panda velká – eukalyptus – tulipán – liška obecná – medvídek koala – velryba grónská – prase divoké – divoký králík – ptakopysk

7. V oblasti Austrálie a Oceánie žijí zajímavá zvířata. Uveď dle obrázku jméno živočicha a název země, kde žije:



1.


Země:



2.

R

Země:



3.

Země:

8. Zakroužkuj pouště, které jsou součástí australského kontinentu:

Gobi Gibsonova Karakum Kalahari Taklamakan Velká Viktoriina Velká písčná




9. Ostrovy Oceánie dělíme do tří oblastí. Přiřaď ke každé oblasti Oceánie vysvětlení názvů a příklady ostrovů:

oblast	vysvětlení názvu	ostrovy
MELANÉSIE	a) mnoho ostrovů	1. Mariany, Karolíny
MIKRONÉSIE	b) ostrovy černého obyvatelstva	2. Nová Guinea, Fidži
POLYNÉSIE	c) drobné ostrovy	3. Nový Zéland, Havajské

## V pracovním sešitu Hravý zeměpis 7 najdete:

- 56 stran hravých cvičení přehledně rozdělených do 9 kapitol
- každá strana obsahuje kromě úkolů i mapu a místo na vlastní poznámky
- moderní a plnobarevný design, který podporuje motivaci a kreativitu žáků
- souhrnný test na konci každé kapitoly

## Další pracovní sešity z řady Hravý zeměpis:



**Pracovní sešit doplňuje učebnice Hravý zeměpis 7:**



ISBN: 978-80-7563-071-1



**Pracovní sešit je připraven v souladu s Rámcovým vzdělávacím programem.**